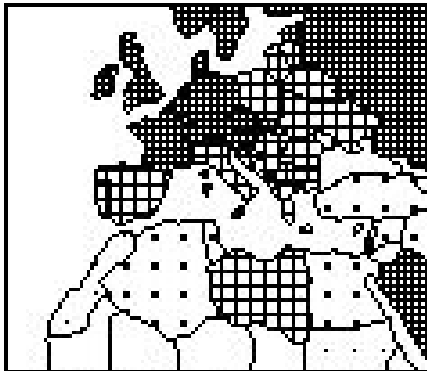



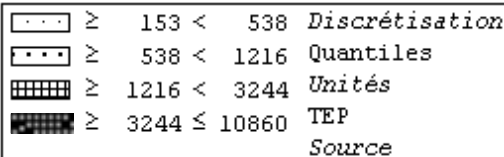
## Comparer le niveau de développement de l'Espagne et du Maroc



Sujet : En quoi peut-on dire que le détroit de Gibraltar sépare deux états dont le niveau de développement est très différent ?

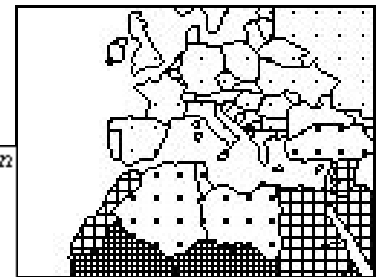
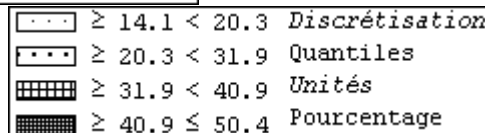
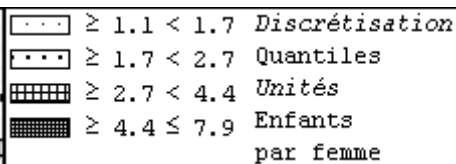
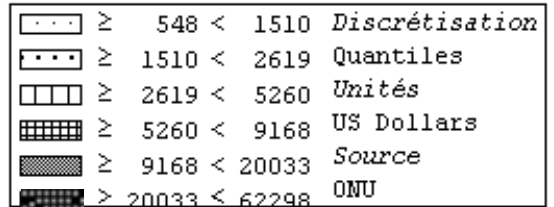


Consommation d'énergie par habitant (2004)



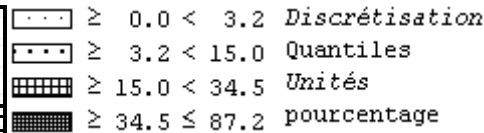
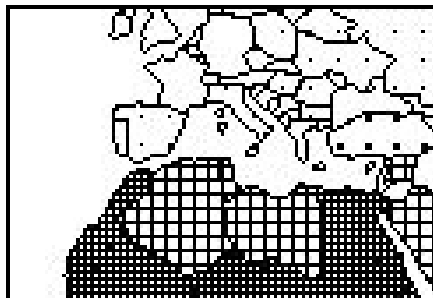
Blanc : pas de données

Produit Intérieur Brut (PIB) par habitant (PPA) (2003)

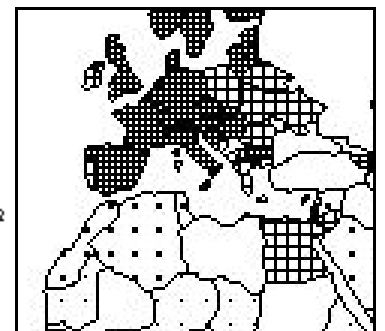
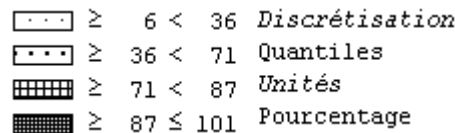


Indice synthétique de fécondité (2000 - 2005)

Part des moins de 15 ans dans la population (2003)

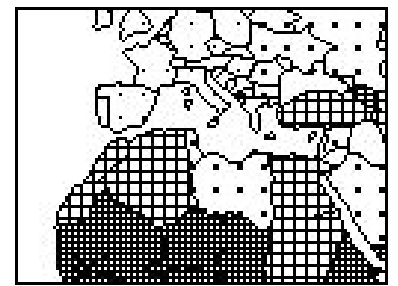
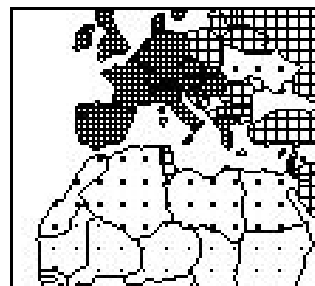


Blanc : pas de données

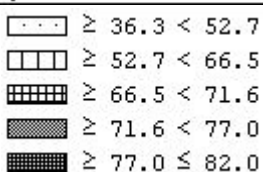


Illétrisme des plus de 15 ans (2002)

Taux de scolarisation secondaire (2003)

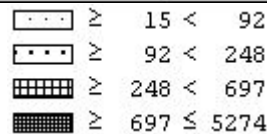


Espérance de vie à la naissance (2003)



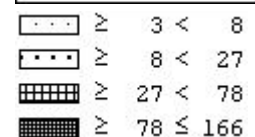
Unités  
Années

Dépenses de santé par habitant (2002)



US  
dollars (PPA)

Mortalité infantile (2003)



Pour  
1000 naissances

Consignes :

- organiser la réponse selon la règle thèse > arguments > exemples (voir correction de l'exercice sur le Mexique)
- Conclusion avec IDH (trouver carte dans manuel)