

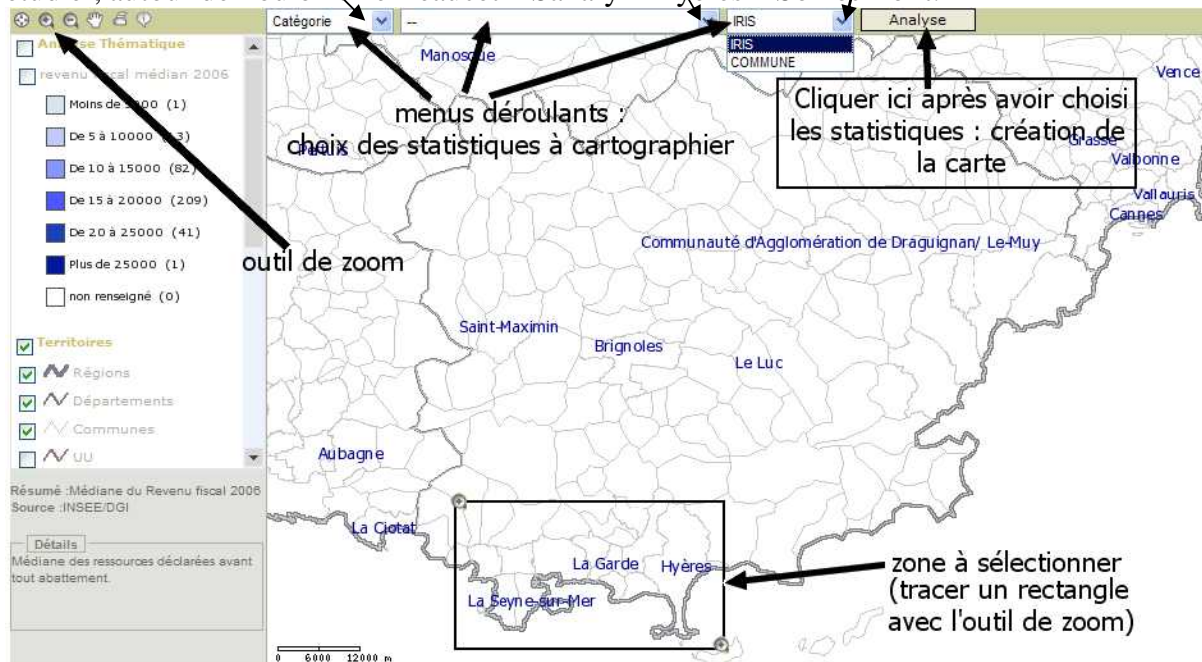
Etude de la croissance urbaine de Toulon.

Exercice 3. différenciation et ségrégation socio-spatiale.

🖱 Aller sur le site du SIG (système d'information géographique) de la « politique de la ville » : <http://sig.ville.gouv.fr/Cartographie/9383>

🖱 Construire votre carte en sélectionnant les choix suivants dans les menus déroulants :
 - Catégorie = revenu - revenu fiscal médian 2004 - commune

🖱 Puis cliquer sur « analyse » ... et attendre ! Quand la carte apparaît, zoomer sur la zone à étudier, autour de Toulon : Le Beaucet – Sanary – Hyères – Solliès-Pont.



🖱 Questions

1/ Que montre cette carte ?

2/ Quelles sont les 3 communes dont les habitants sont les plus pauvres ?

🖱 Remplacez « commune » par « IRIS* » et cliquez sur « analyser ». Lorsque la carte apparaît, cliquez dans le deuxième onglet sur « revenu fiscal médian 2006 », puis sur analyser. Zoomez sur la zone autour de Toulon (Le Beaucet – Sanary – Hyères – Solliès-Pont).

* IRIS : « Ilots Regroupés pour des Indicateurs Statistiques », c'est-à-dire une partie d'une commune. On parle d'une échelle « infra-communale ».

🖱 3/ Que représentent les zones en blanc sur la carte observée ?

.....

Gardez le site SIG politique de la ville ouvert et ouvrez un autre onglet :

☞ Allez maintenant sur EDUGEO : <http://www.edugeo.fr>

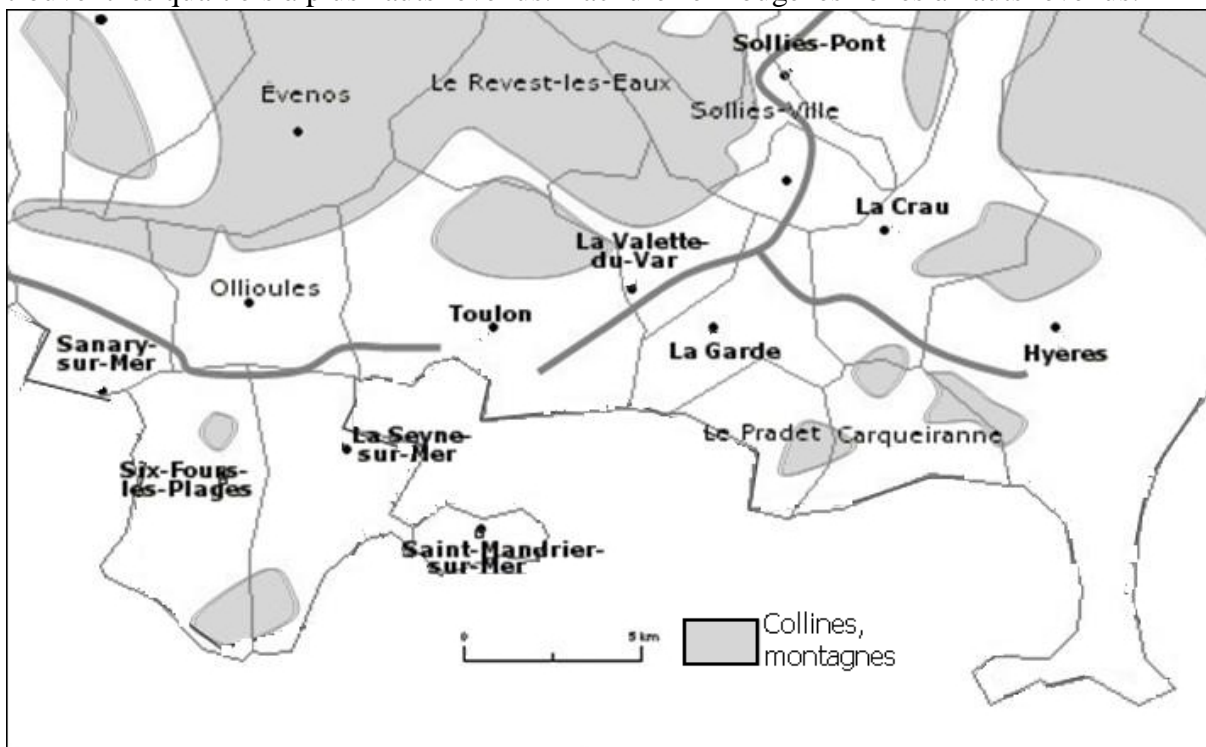
☞ Cliquez sur « J’y vais », puis entrez votre identifiant et votre mot de passe EDUGEO.

☞ Cliquez sur « zone pédagogique » et choisissez dans le menu « zone de Toulon-Hyères ».

☞ **Sélectionnez** dans le menu à gauche les couches **CARTES > carte IGN** et **ALTITUDE > altitude**. **Fermez** les couches orthophotographie 1972 et cartographie 1976. Utilisez les curseurs de transparence pour passer de la carte IGN à la carte du relief. En passant d’un onglet à l’autre (edugeo / SIG politique de la ville), répondez à la question suivante :



☞ 4/ Sur le schéma n° 1 ci-dessous, représentez en simplifiant les contours les zones où se trouvent les quartiers à plus hauts revenus. Hachurez en rouge les zones à hauts revenus.



☞ Quartiers à hauts revenus.

☞ 5/ Où sont situés ces quartiers ? Dans quelles parties du relief, du paysage ?

.....


.....


.....


☞ 6/ Comment pouvez-vous l’expliquer ?


.....

.....

 Retournez sur l'onglet du site SIG politique de la ville

 Observez les quartiers entourés par un trait rouge, orange ou bleu foncé :


 7/ Quel est le niveau de revenu dans ces quartiers ?

 8/ En vous aidant de la légende à gauche (utilisez l'ascenseur pour la faire défiler vers le bas), complétez ci-dessous la légende pour ces figurés en reproduisant les figurés correspondants dans les cadres à gauche :

Zfu : zones franches urbaines. Les zones franches urbaines (ZFU) sont des quartiers de plus de 10 000 habitants, situés dans des zones dites sensibles ou défavorisées. Les entreprises qui s'y installent sont exonérées de charges sociales et d'impôts.


ZUS : Zones urbaines sensibles. des zones « caractérisées par la présence de grands ensembles ou de quartiers d'habitat dégradé et par un fort taux de chômage ».


CUCS : Contrats urbains de cohésion sociale : contrat passé entre l'Etat et les collectivités territoriales pour mettre en œuvre des actions concertées pour améliorer la vie quotidienne des habitants dans les quartiers connaissant des difficultés (chômage, violence, logement...).

 A Hyères, repérez l'emplacement de deux zones défavorisées : la vieille ville et le Val des Rougières.


 (vous pouvez mieux examiner la carte topographique en décochant en légende la couche « analyse thématique »).

Gardez le site SIG politique de la ville ouvert et retournez dans edugeo sur l'autre onglet.

 Zoomez sur Hyères et observez les deux quartiers sélectionnés : vieille ville et Val des Rougières.

 Sélectionnez dans le menu à gauche les couches carte IGN et photographies aériennes. Fermez les autres couches. Utilisez les curseurs de transparence pour passer de la carte à la photographie.



 9/ Décrivez ci-dessous l'habitat de chacun de ces quartiers ci-dessous :

- Vieille ville :


.....


.....

- Val des Rougières :


.....


.....


 Sur le SIG Politique de la ville, observez les revenus et les quartiers défavorisés de Toulon, Hyères et la Seyne ;

 **10/** Complétez le tableau suivant en écrivant le nom d'un ou deux quartiers concernés dans les bonnes cases (attention ! certaines cases doivent rester vides !) :


Caractéristiques des quartiers	Exemples de quartiers ...	
	Riches	pauvres
Bord de mer		
Collines, vue dégagée		
Fond de vallon		
Vieille ville, centre ville		
Proximité des autoroutes et des voies ferrées		
Proximité des zones industrielles et commerciales		
Environnement naturel (végétation)		

 Sur le SIG Politique de la ville, repérez les deux quartiers à plus haut revenu de la commune de Toulon.

 En zoomant, repérez quelques noms de lieux (quartier, équipement particulier) et

 **11/** notez-les :

Zone : situez-la	Noms de lieux
1 : Nord de Toulon, versant sud du Mont Faron	
2 : sud de Toulon, bord de mer	Le Petit Bois, La Serinette, Le Cap Brun

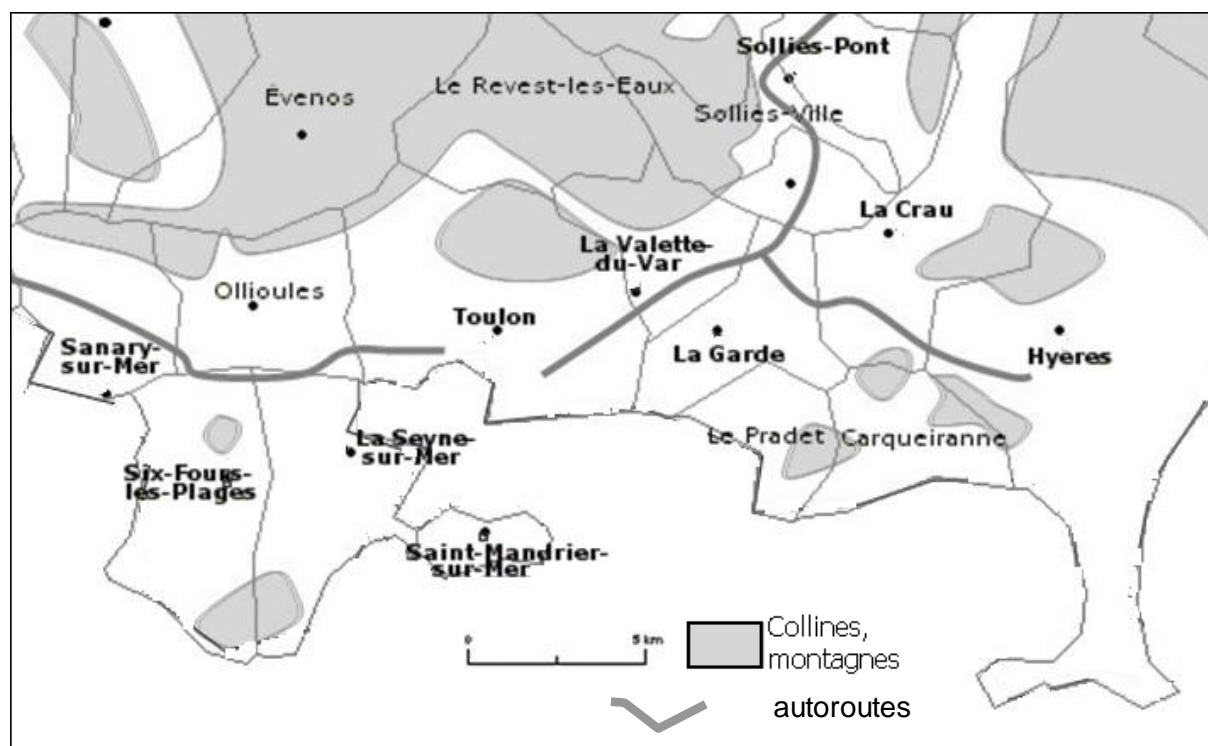
 Retournez sur edugeo, affichez les couches carte IGN et photographies aériennes.

 Observer à fort grossissement le paysage et l'habitat.

 **12/** Décrivez-les ci-dessous

Zone : situez-la	Description de l'habitat et du cadre de vie
1 :	
2 :	

✎ 13/ Complétez le croquis de synthèse ci-dessous à partir de vos observations. Compléter la légende, reporter les figurés sur le croquis, compléter la nomenclature du croquis par quelques noms de quartiers.



Titre :

Quartiers riches (caractéristiques) :

Quartiers défavorisés (caractéristiques) :

Quartiers intermédiaires (laisser en blanc).